


Die Pyramiden

► Vor 5 000 Jahren wurden die Pharaonen in riesigen Pyramiden begraben. Erkundige dich warum (Link 1).



► Schau nach, warum die Pyramiden immer am Nilufer, in Palastnähe und im Westen stehen mussten (Link 2):

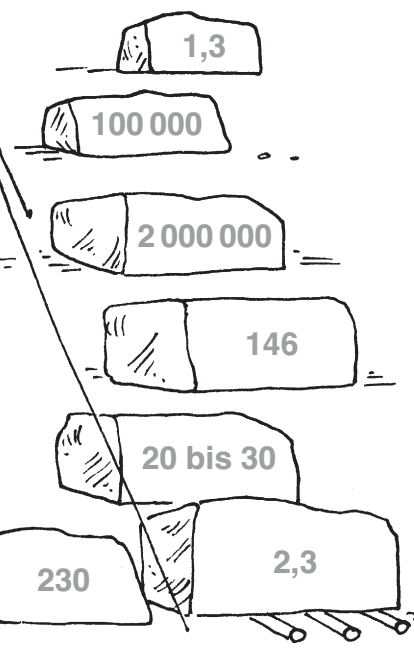
Nilufer _____

Palast _____

Westen _____


► Lies die Informationen unter Link 2 noch einmal aufmerksam durch und schreibe die Zahlen unten in die richtige Tabellenspalte. Für die beiden letzten Zeilen brauchst du außerdem Link 3.

Zahlen rund um die Pyramiden		
Länge der Steinblöcke		Meter
Gewicht der Steinblöcke		Tonnen
Anzahl der Steinblöcke		Stück
Anzahl der Arbeiter an einer Pyramide		Arbeiter
Anzahl der Baujahre		Jahre
Länge der Grundseiten der größten Pyramide		Meter
Höhe der größten Pyramide		Meter



► Niemand weiß genau, wie die Ägypter es schafften, die riesigen Steinblöcke zu transportieren. Es gibt dazu verschiedene Theorien. Schau sie dir einmal an (Link 4).

► Unter Link 5 kannst du einen virtuellen Rundgang durch eine Pyramide machen.



www.mildenberger-verlag.de/lernen-im-netz/heft10/ab7