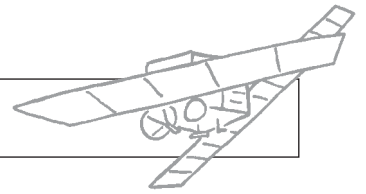


# Wettervorhersage



- Erkundige dich, welche Daten die Meteorologen messen, um das Wetter vorhersagen zu können (Link 1).

---



---

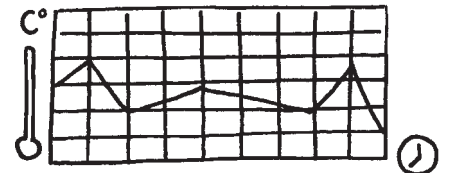


---



---



- Kreuze richtig an:  
Die Daten werden abgerufen  
 stündlich     täglich     wöchentlich



- Lies den Text und entziffere die Rätselschrift. Wenn du unsicher bist, schau nach unter Link 1.

Es gibt viele verschiedene Wetterstationen auf dem **B** <sup>2 15 4 5 14</sup>, auf **S** <sup>19 3 8 9 6 6 5 14</sup> und auf **B** <sup>2 15 8 18 9 14 19 5 12 14</sup>. Für Daten in höheren Schichten schickt man **B** <sup>2 1 12 12 15 14 19</sup> mit Messgeräten hoch. Zusätzlich kreisen **W** <sup>23 5 20 20 5 18 19 1 20 5 12 12 9 20 5 14</sup> um die Erde.

- Auf der Wetterkarte im Fernsehen oder in Zeitungen findest du verschiedene Symbole, die dir auf einen Blick etwas über das Wetter sagen (Link 2). Male sie in die Kästchen oder ergänze die Bedeutungen.

			
	heiter	wolkig	bedeckt
			
neblig		Schauer	Gewitter

- Schau beim Deutschen Wetterdienst (Link 3) nach, ob du heute ohne Regenschirm spazieren gehen kannst.

[www.mildenerger-verlag.de/lernen-im-netz/heft21/ab7](http://www.mildenerger-verlag.de/lernen-im-netz/heft21/ab7)

