


Umweltzahlen

► Schau nach, auf welchen drei Gebieten die Menschen in Deutschland und Europa am meisten für die Umwelt tun (Link).



D	%	EU	%



D	%	EU	%



D	%	EU	%

► Notiere auch, auf welchen drei Gebieten am wenigsten getan wird.



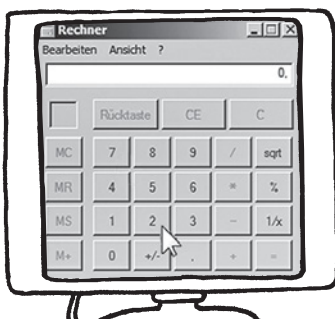
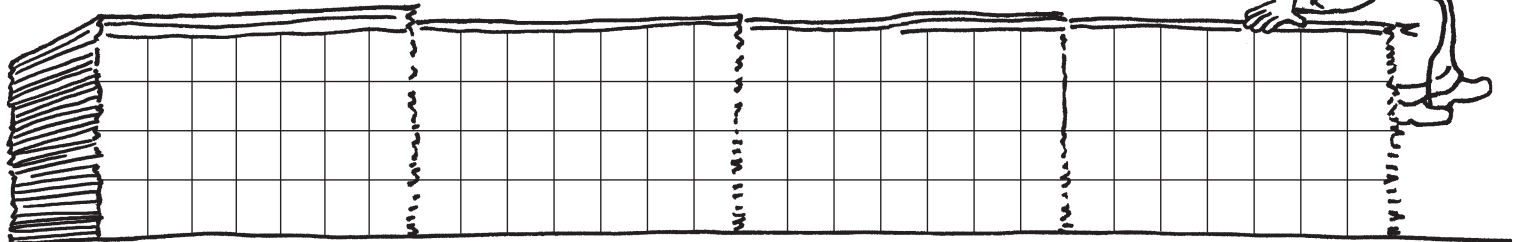
D	%	EU	%

D	%	EU	%

D	%	EU	%

Der durchschnittliche Papierverbrauch beträgt in Deutschland jährlich ca. 215 kg pro Person.

- Rechne aus, wie viel kg Papier ein 60-Jähriger demnach schon verbraucht hat.
- Wie viel kg Papier hast du schon verbraucht?
- Rechne aus, wie viel kg Papier die Kinder deiner Klasse jährlich verbrauchen.
- Wie viel kg Papier verbrauchen die Kinder deiner Klasse in 13 Schuljahren?



► Kontrolliere die Aufgaben eines Partners anschließend mit dem Computer:

Start > Programme > Zubehör > Rechner

