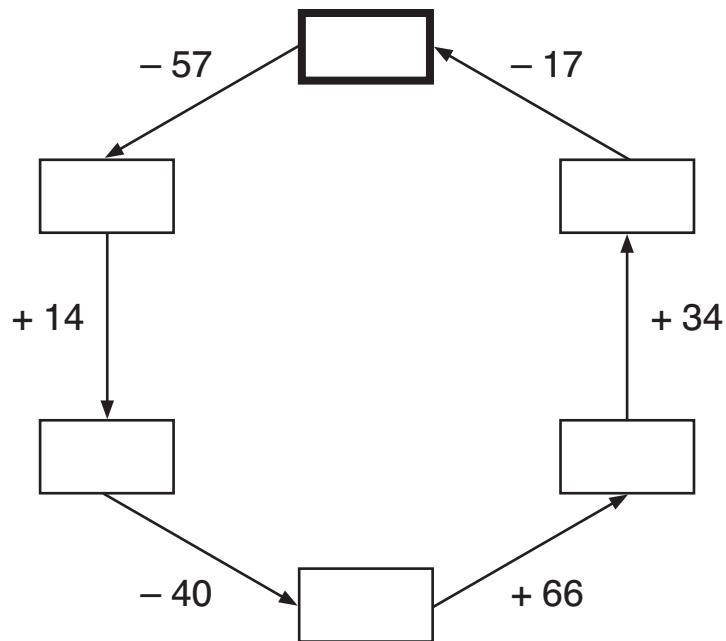
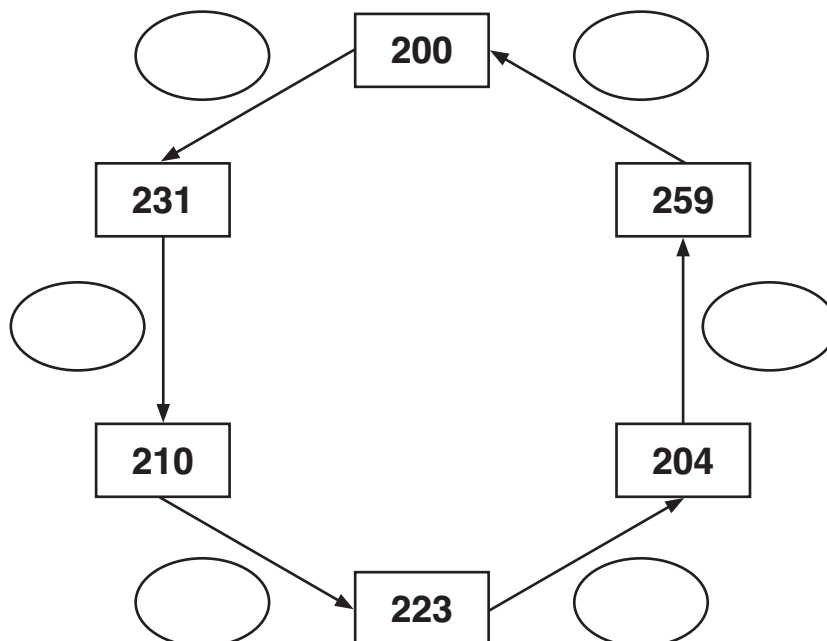


Setze in das Startfeld eine beliebige Hunderterzahl ein und ergänze in Pfeilrichtung.



**Kontrolle:** Start- und Zielzahl müssen gleich sein.

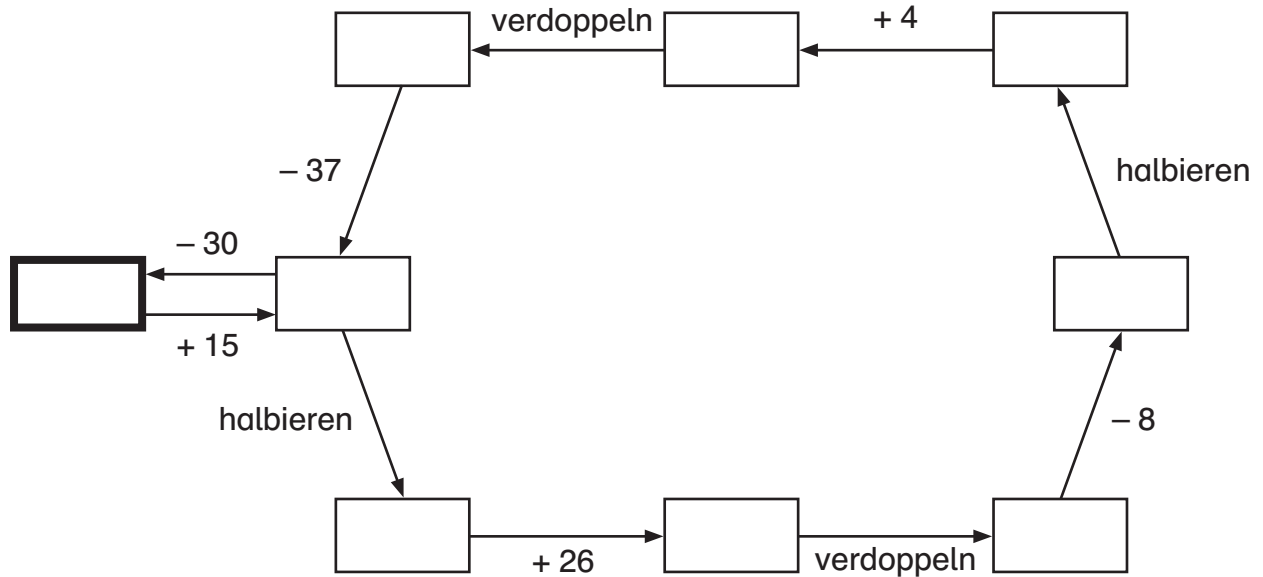
Ergänze die Rechenschritte.



**Kontrolle:** Die Summe der Plus- und der Minuszahlen muss gleich sein.

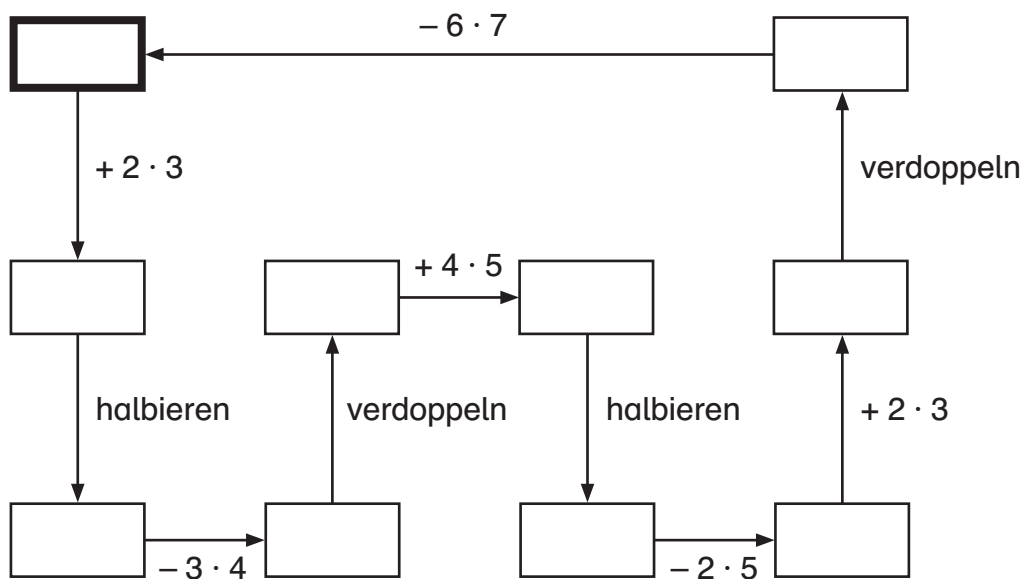


Setze in das Startfeld eine ungerade einstellige Zahl ein und ergänze.



**Kontrolle:** Start- und Zielzahl müssen gleich sein.

Setze in das Startfeld eine gerade einstellige Zahl ein und ergänze.



**Kontrolle:** Start- und Zielzahl müssen gleich sein.

Ergänze die fehlenden Zahlen.

					48	↓	+ 24			72	↓	+ 36
<b>+ 16</b> →												
16										144		
<b>+ 32</b> →												
32					192					288	320	

Ergänze die fehlenden Zahlen.

		12	↓	+ 16			30	↓	+ 40
22	44			110					220
<b>+ 22</b> →									
54	108			270					540
<b>+ 54</b> →									

1. Ergänze die fehlenden Zahlen.

a) 24 600, 24 800, 25 000, , , 25 600,

b) 80 000, 180 000, 280 000, , 480 000, ,

c) 115 000, , , , 87 000, 80 000, 73 000

d) , 9 350, , , 6 050, 4 950, 3 850

e) 855 500, 856 000, 856 500, , , , 858 500

**Kontrolle:** 7 150, 857 500, 10 450, 580 000, 380 000, 8 250, 25 200, 858 000, 25 800, 680 000, 94 000, 108 000, 25 400, 857 000, 101 000

1. Ergänze die fehlenden Zahlen.

a) 6 000, 5 500, 5 000, , , 3 500,

b) 22 800, 23 000, 23 200, 23 400, , ,

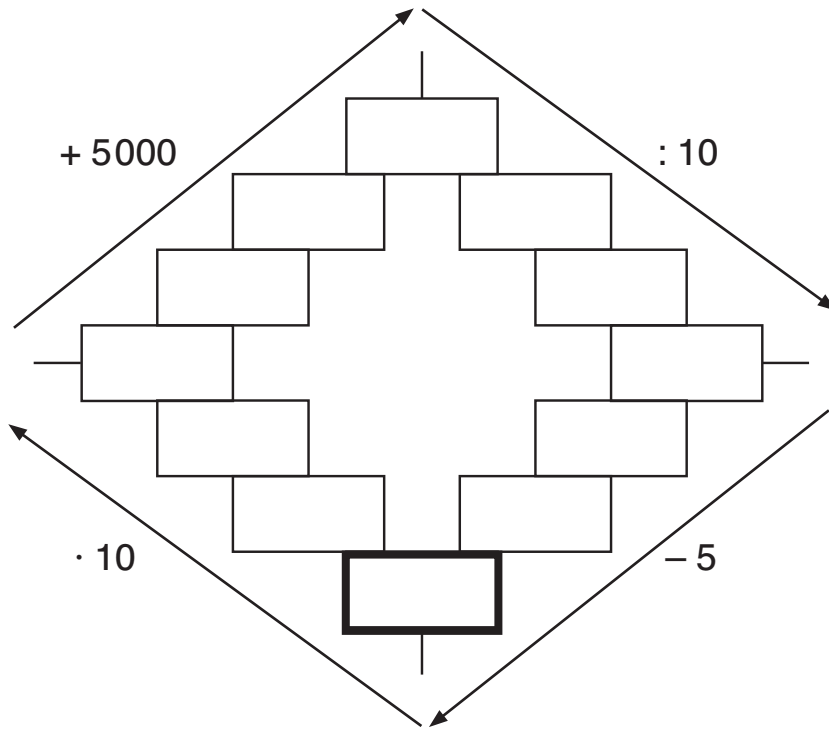
c) 327 030, 324 030, 321 030, , , 312 030,

d) 990 000, 880 000, 770 000, , , , 330 000

e) 549 000, 547 000, , , 541 000, , 537 000

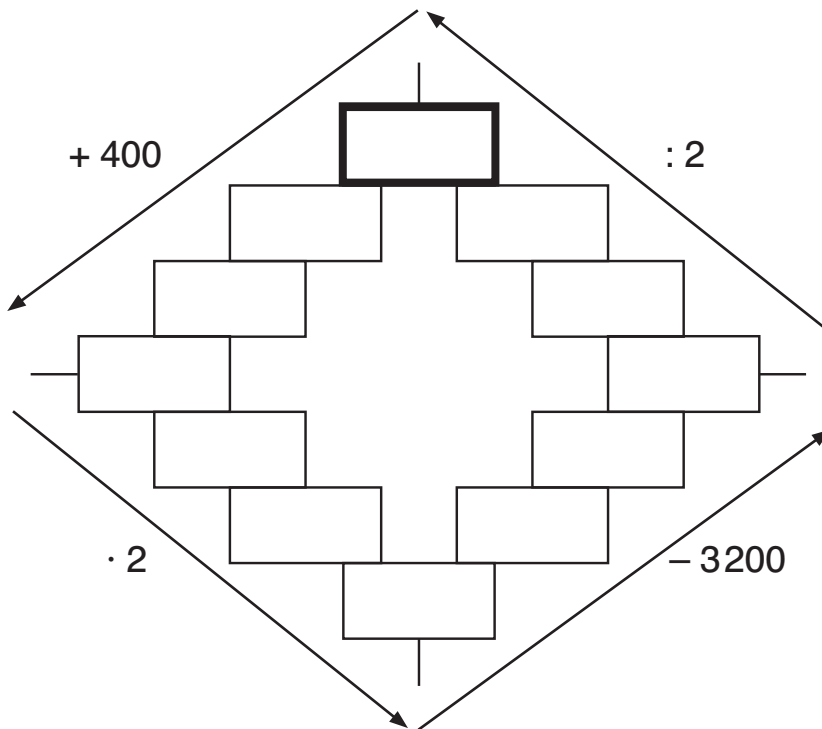
**Kontrolle:** 3 000, 23 600, 660 000, 545 000, 4 000, 440 000, 315 030, 24 000, 318 030, 4 500, 543 000, 23 800, 550 000, 539 000, 309 030

Setze in das Startfeld eine Hunderterzahl ein, die kleiner als 1000 ist. Ergänze.



**Kontrolle:** Start- und Zielzahl müssen gleich sein.

Setze in das Startfeld eine Hundertzahl ein, die kleiner als 1000 ist. Ergänze.



**Kontrolle:** Start- und Zielzahl müssen gleich sein.