

1

.	12	23
2		
4		
8		
	60	
7		
9		
6		
		69
10		

2

.	13	32
5		
9		
4		
		256
10		
7		
3		
6		
	0	

3

:	3
28	9R1
15	
17	
25	
4	
11	

$9 \cdot 3 + 1 =$

$7 \cdot 3 =$

$7 \cdot 3 + 1 =$

$4 \cdot 3 + 2 =$

4

$376 + \square = 432$

4|20|32**5**

$259 + \square = 317$

6

$533 + \square = 660$

7

$488 + \square = 529$

8

$770 + \square = 864$

9

$128 + \square = 258$

10

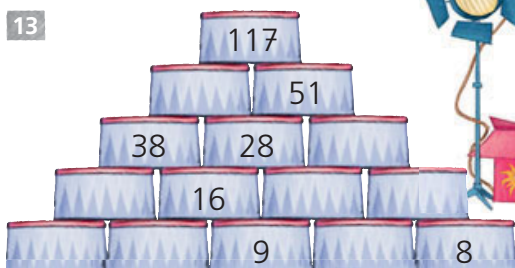
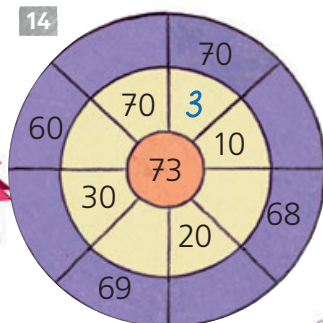
$641 + \square = 790$

11

$266 + \square = 321$


12

$917 + \square = 1000$

13**14**

Rund um die Mathematik

1 Welcher Bauplan gehört zu welchem Gebäude? Ordne zu.



A	B	C	D	E
3 3 3 3	4 4 4	5 5 5	4 6 3	4 3 2 1
3 3 3 3	4 4 4	4 4 4	3 2 2	4 1 1
	2 1 1	3 3 3		4 1
				4

F	G	H	I	J
2 2 2	5 4 3 2	6 5 4 1		3 1 1
3 3 2	4 3 1 1	6 5 4 1	4 3 2	3 1 1
2 2	3 1 1 1	6 5 1 1	2 3 3 2	3 1 1
1 1			2	

Gebäude	1	2	3	4	5	6	7	8	9	10
Bauplan	C									
Anzahl der Würfel	36									

Die große Rätselseite



A	C	D	E	G	H	I	L	M	N	O	R	S	T	W	Y	Z
0	1	7	8	13	27	36	75	112	126	144	180	240	280	309	320	400

- $3 \cdot 103 = 309$ **W** $2 \cdot 18 =$ $8 \cdot 18 =$
 $4 \cdot 9 =$ $6 \cdot 40 =$ $93 - 18 =$
 $9 \cdot 20 =$ $8 \cdot 40 =$ $35 : 5 =$
 $8 \cdot 30 =$ $6 \cdot 30 =$ $27 : 1 =$
 $94 - 58 =$ $6 \cdot 6 =$ $0 : 76 =$
 $7 \cdot 18 =$ $4 \cdot 60 =$ $7 \cdot 16 =$
 $56 : 8 =$ $37 : 37 =$ $24 \cdot 10 =$
 $40 \cdot 10 =$ $72 - 45 =$ $7 \cdot 40 =$
 $309 \cdot 1 =$ $48 : 6 =$ $56 : 7 =$
 $81 - 73 =$ $130 : 10 =$ $180 + 0 =$

